

MIJLOACE DE SEMNALIZARE III

1. Care este pericolul asupra caruia va avertizeaza acest indicator?



- a) ca exista o denivelare intre carosabil si acostament;
- b) ca acostamentul nu este stabil;
- c) ca exista o denivelare fata de banda alaturata;

2. Care dintre cele trei indicatoare interzice accesul ciclomotoarelor?



1.

2.

3.

- a) indicatorul 1;
- b) indicatorul 2;
- c) indicatorul 3;

3. Care din cele trei indicatoare ii ofera informatii conducatorului de vehicul pentru realizarea preselectiei?



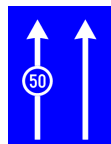
1.

2.

3.

- a) indicatoarele 1 si 2;
- b) indicatorul 1;
- c) toate cele trei indicatoare;

4. Care din indicatoarele de mai jos indica viteza minima obligatorie pentru o banda de circulatie?



1.

2.

- a) indicatorul 1;
- b) indicatorul 2;
- c) niciunul din cele doua indicatoare;

5. Drumul de tranzit european este indicat:



1.

2.

3.

a) de indicatorul 1;

b) de indicatorul 3;

c) de indicatorul 1 si 3;

6. **Care din urmatoarele indicatoare va arata ca circulati pe un drum expres ?**



1.

2.

3.

4.

a) indicatorul 1 si 3;

b) indicatorul 3;

c) indicatorul 4;

7. Ce va arata indicatorul de mai jos?



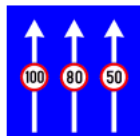
- a) imbarcarea pe platforma unui autotren;
- b) imbarcarea pe vagoane platforma de cale ferata;
- c) imbarcarea pe ferry-boat;

8. Ce va arata indicatorul de mai jos



- a) poligon de tir;
- b) zona de vanatoare;
- c) zona militara unde se executa trageri;

9. Acest indicator va arata:



- a) viteze indicate pentru diferite benzi de circulatie;
- b) limite de viteza pentru diferite benzi de circulatie;
- c) limite de viteza diferite pentru diferite categorii de autovehicule.

10. Acest indicator va informa despre existenta unei parcar:



- a) acoperite;
- b) subterane;
- c) intr-o cladire.

11. Acest indicator va informa despre:



- a) viteza de deplasare pe acel sector de drum;
- b) viteza recomandata;
- c) viteza instituita de catre administratia drumurilor impreuna cu politia, pentru zona respectiva.

12. Panoul aditional de mai jos va informa despre:



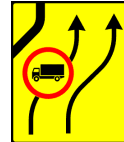


- a) existenta unui cantar pentru autovehicule;
- b) existenta unei parcar cu plata;
- c) supravegherea automata a traficului.

13. Acest panou aditional se instaleaza atunci cand:



- a) este obligatorie folosirea luminilor de drum;
- b) in anumite situatii, unde nu exista vizibilitate, este obligatorie folosirea, inclusiv pe timp de zi, a luminilor de intalnire;
- c) este obligatorie utilizarea luminilor de intalnire, chiar pe timp de zi, ca urmare a unor conditii meteo ce reduc substantial vizibilitatea.

14. Care din cele trei indicatoare informeaza despre o abatere temporara?



1.

2.

3.

a) indicatorul 1;

b) indicatorul 2;

c) indicatorul 3.

15. Care din cele doua indicatoare va informeaza despre existenta unui acostament periculos?



1.

2.

a) indicatorul 1;

b) indicatorul 2;



c) ambele indicatoare.

16. Ce va arata acest indicator?



- a) ca urmeaza o zona de lucrari ample;
- b) semnalizeaza un utilaj ce se deplaseaza lucrand;
- c) ca zona de lucrari ce urmeaza, este semnalizata si prin semafoare temporare.

17. Care din cele doua indicatoare va arata o terminare a benzii de circulatie?



1. 2.
- a) indicatorul 1;
 - b) indicatorul 2;
 - c) ambele indicatoare.

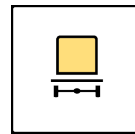
18. Care din cele doua indicatoare presemnalizeaza un sector de drum cu circulatie alternanta?



1. 2.

- a) niciun indicator;
- b) ambele indicatoare;
- c) indicatorul 1.

19. Care din cele doua panouri aditionale denumeste “Vehicule care transporta marfuri periculoase”?



1.

2.

- a) panoul cu nr.1;
- b) panoul cu nr. 2;
- c) ambele panouri.

20. Care din cele trei indicatoare interzice accesul motocicletelor?



1.

2.

3.

- a) Indicatorul 3;
- b) Indicatorul 2;
- c) Indicatorul 2 si 3.

21. A supra carui lucru va avertizeaza indicatorul de mai jos?



- a) ca veti intalni un drum fara prioritate;
- b) ca urmeaza o intersectie cu drumuri fara prioritate, decalate;
- c) ca urmeaza o intersectie cu drumuri secundare decalate.

22. Unde veti intalni acest indicator?



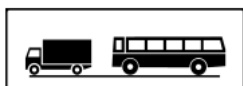
- a) inainte de locul in care latimea partii carosabile incepe sa se ingusteze cu cel putin 0,50 m;
- b) inainte de poduri sau podete cu latimea mai mica decat latimea curenta a drumului;
- c) inainte de intrarea intr-un tunel.

23. Unde veti intalni acest indicator?



- a) in intravilan, înaintea fiecărei treceri pentru pietoni;
- b) in afara localitatilor, pe toate drumurile, cu exceptia celor de pamant;
- c) la orice trecere pentru pietoni.

24. Ce va indica acest panou aditional?



- a) categoriile de vehicule care trebuie sa respecte semnificatia indicatorului;
- b) categoriile de vehicule exceptate de la respectarea semnificatiei indicatorului;
- c) categoriile de vehicule care trebuie sa urmeze o anumita directie.

25. Care este denumirea acestui indicator?



- a) post de radio;
- b) statie de radio-emisie;
- c) informatii rutiere.

26. Care din cele trei indicatoare va indica o zona rezidentiala?



1.

2.

3.

- a) Indicatorul 2;
- b) Indicatorul 3;
- c) Indicatorul 1.