

MIJLOACE DE SEMNALIZARE V

1. In ce situatie nu puteti efectua virajul la dreapta, desi semaforul este pe culoarea verde?

- a) daca in intersectie exista un agent de circulatie care va da alte indicatii;
- b) cand sub semafor exista un indicator de obligare, cu semnificatia „Inainte”;
- c) cand va aflati la mai putin de 50m de intersectie si sunteti incadrat pe randul din stanga;

2. In ce situatie nu puteti efectua virajul spre stanga, desi semaforul este pe culoarea verde?

- a) cand sub semafor exista un indicator de obligare cu semnificatia „Inainte si la dreapta”;
- b) cand strada din stanga este semnalizata cu indicatorul „Sens unic”;
- c) cand sub semafor intalniti indicatorul cu semnificatia „Interzis viraj la stanga “;

3. Oprirea la semnalul de culoare rosie a semaforului se va face:

- a) inainte trecerii pentru pietoni;
- b) in dreptul semaforului (in lipsa marcajelor);
- c) inainte de coltul intersectiei (cand semaforul este instalat deasupra sau de cealalta parte a intersectiei si nu exista marcaje de oprire);

4. Pot patrunde in intersectie pe culoarea rosie a semaforului, pe langa autovehiculele Politiei, Salvarii, Pompierilor si alte autovehicule aflate in misiune apartinand:

- a) Ministerului Apararii Nationale, care insotesc coloane militare;
- b) Jandarmeriei;
- c) autovehicule care transporta substante inflamabile sau periculoase cu girofarul in functiune;

5. Ce obligatii revin conducatorilor de vehicule cand se apropie de o intersectie, iar semaforul arata culoarea galben?

- a) sa reduca viteza si sa circule cu atentie;
- b) sa opreasca autovehiculul;
- c) sa mareasca viteza, pentru a traversa intersectia inainte de schimbarea culorii semaforului;

6. Ce vehicule pot patrunde in intersectie pe culoarea galbena a semaforului electric?

- a) autovehiculele prevazute cu lumini giratorii de culoare galbena;
- b) autovehiculele apartinand Serviciului de Informatii Externe;
- c) autovehiculele surprinse in intersectie de culoarea galben, sau care sunt atat de aproape, incat nu mai pot fi oprite in conditii de siguranta;

7. Cum va proceda conducatorul auto in cazul in care lampile de culoare rosie si galben a semaforului sunt aprinse simultan?

- a) isi va continua deplasarea cu atentie, semaforul fiind defect;
- b) va opri autovehiculul si va astepta aparitia culorii verzi;

c) va respecta semnificatia indicatoarelor de prioritate montate sub semafor;

8. In cazul in care semaforul de pe trotuar va arata culoarea verde, iar cel suspendat, pentru virajul la stanga, culoarea rosie, care vehicule vor putea patrunde in intersectie?

- a) vehiculele ai caror conducatori doresc sa execute viraj stanga;
- b) vehiculele ai caror conducatori intentioneaza sa circule pe directia inainte;
- c) vehiculele ai caror conducatori doresc sa execute viraj dreapta;

9. Cum vor proceda conducatorii de vehicule cand vor intalni semaforul care functioneaza numai pe lumina de culoare galbena intermitenta?

- a) vor opri imediat;
- b) vor grabi traversarea intersectiei;
- c) vor reduce viteza si se vor conforma regulilor de circulatie stabilite pentru intersectia respectiva;

10. La intalnirea semaforului care functioneaza numai pe culoarea galben-intermitent, conducatorii de vehicule trebuie:

- a) sa respecte semnificatia indicatoarelor de reglementare a prioritatii amplasate sub semafor;
- b) daca nu exista alte mijloace de semnalizare, sa considere intersectia respectiva ca fiind o intersectie cu circulatie nedirijata si sa se comporte ca atare;
- c) sa opreasca si sa astepte schimbarea culorii semaforului;

11. Lumina de culoare verde a semaforului electric permite conducatorilor de vehicule sa se deplaseze:

- a) pe orice directie, daca nu exista restrictii;
- b) numai inainte si la dreapta, daca sub semafor exista un indicator cu aceasta semnificatie;
- c) numai pe directiile indicate de sagetile directionale desenate pe lentila semaforului;

12. Cum vor proceda conducatorii de vehicule cand intalnesc un semafor in functiune apasat de cealalta parte a intersectiei?

- a) isi vor continua drumul, ignorandu-l;
- b) vor reduce viteza si vor urmari circulatia vehiculelor din partile laterale;
- c) vor respecta semnificatia semnalelor semaforului, oprind daca este cazul, inainte de coltul intersectiei;

13. Ce obligatii revin conducatorului de vehicul care executa viraj dreapta, semaforul fiind pe culoarea verde?

- a) sa reduca viteza si sa se incadreze cat mai aproape de bordura;
- b) sa permita traversarea strazii de catre pietonii angajati pe trecerea pentru pietoni;
- c) sa puna in functiune lampile indicatoare de directie din partea dreapta;

14. Ce obligatii revin conducatorului de vehicul care executa viraj stanga, semaforul fiind pe culoarea verde?

- a) sa reduca viteza si sa se incadreze cat mai aproape de axul drumului, in cazul in care circula pe un drum cu doua sensuri de circulatie;
- b) in cazul in care traseul sau se intersecteaza cu cel al vehiculelor care circula din sens opus, sa permita trecerea acestora;
- c) inainte de a patrunde pe strada din stanga, sa permita trecerea pietonilor angajati in traversare pe trecerea pentru pietoni;

15. **Cum veti proceda in cazul in care in apropierea unei intersectii intalniti semaforul pe culoarea verde, iar sub el se afla indicatorul „Oprire”?**

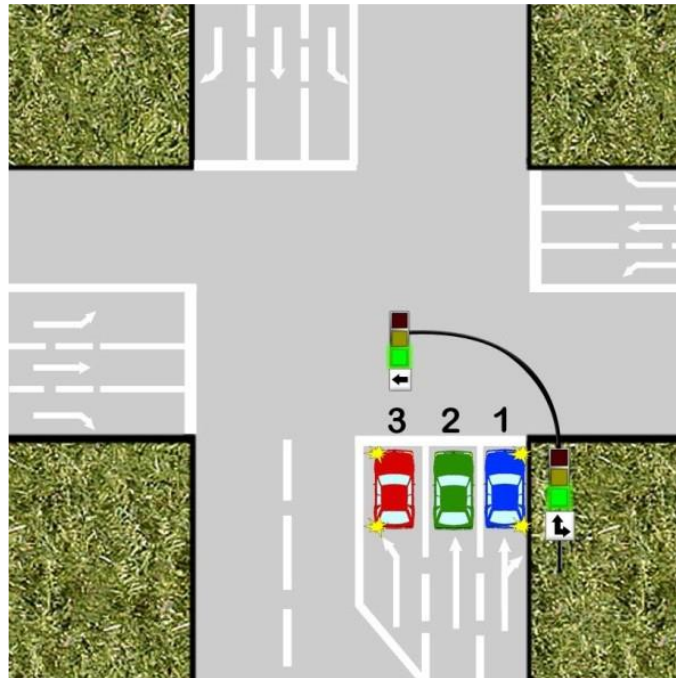
- a) veti opri in fata marcajului transversal;
- b) va continuati deplasarea pe directia dorita;
- c) reduceti viteza si circulati cu atentie sporita;

16. **Cum va proceda conducatorul autoturismului din imagine pentru a efectua virajul la dreapta?**



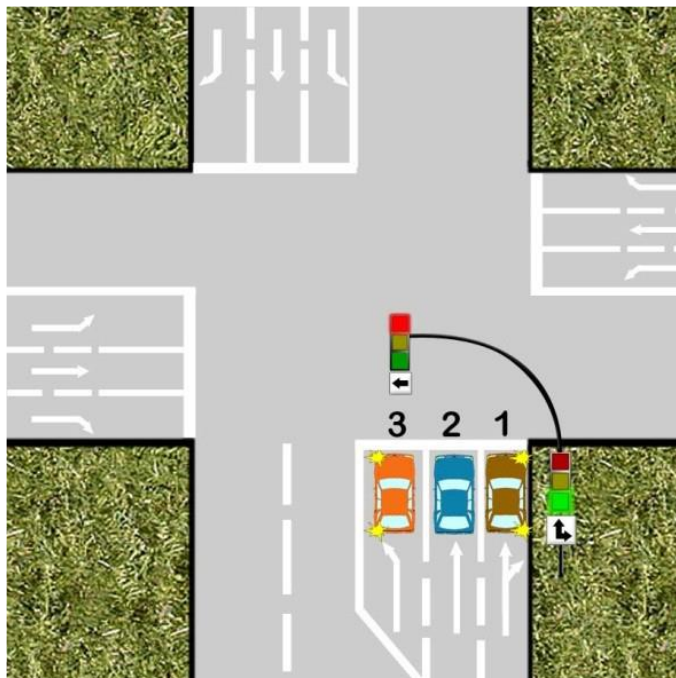
- a) se asigura, semnalizeaza si apoi executa virajul;
- b) aflandu-se in zona de preselectie, nu poate executa virajul spre dreapta de pe banda pe care se afla;
- c) poate executa virajul, numai daca banda 1 este libera;

17. **Care din cei trei conducatori auto isi poate continua deplasarea?**



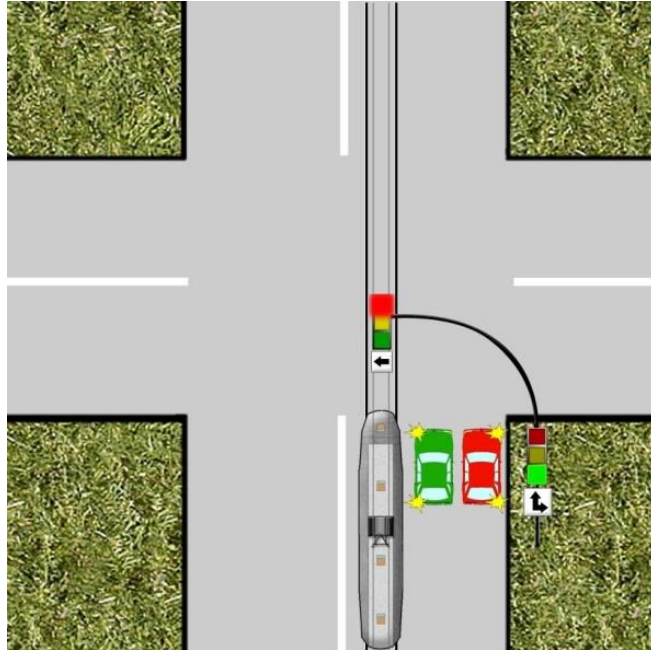
- a) numai conducatorul autovehiculului cu numarul 3;
- b) conducatorii autovehiculelor cu numerele 2 si 3;
- c) numai conducatorul autovehiculului cu numarul 2;

18. **Dupa care semafor se va orienta conducatorul autovehiculului cu numarul 2?**



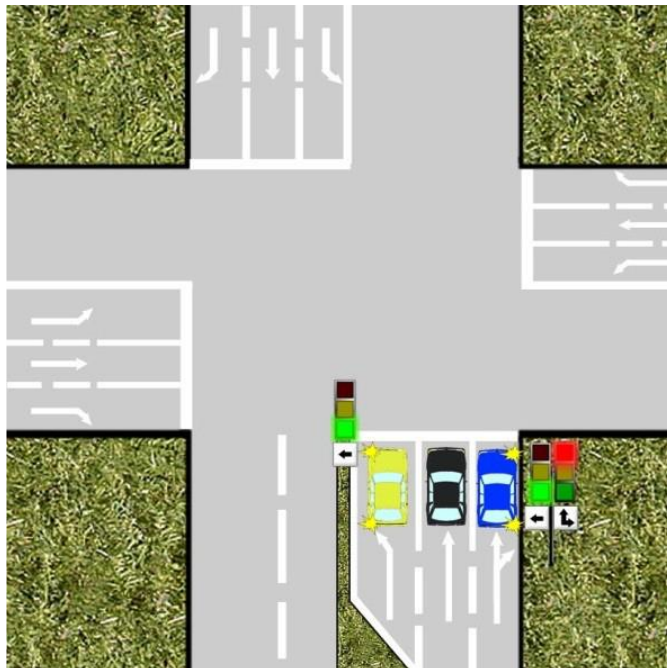
- a) dupa semaforul de pe trotuar;
- b) dupa semaforul suspendat;
- c) de pe banda pe care se afla, isi poate continua deplasarea, fara a tine seama de culoarea luminii semaforului;

19. **Care dintre vehiculele din imagine isi poate continua deplasarea?**



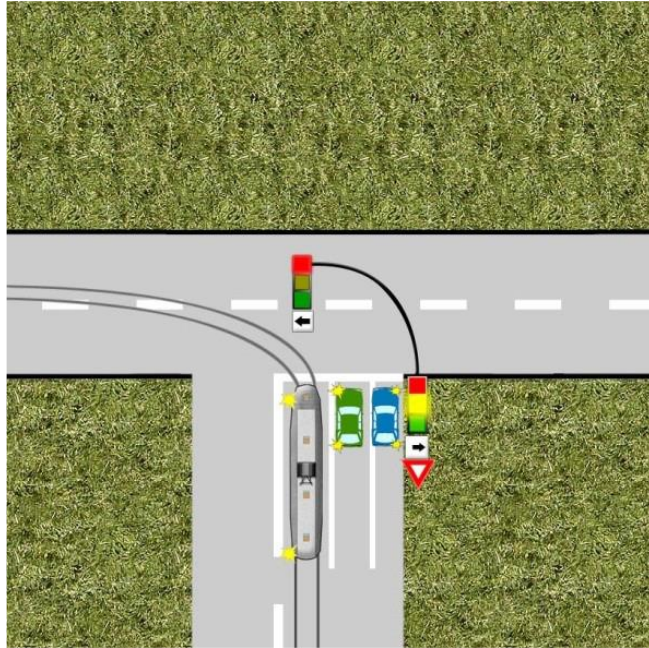
- a) autoturismul de culoare verde;
- b) tramvaiul si autoturismul de culoare rosie;
- c) numai tramvaiul;

20. **Care din cele trei autovehicule ajunse simultan in intersectie, isi poate continua deplasarea?**



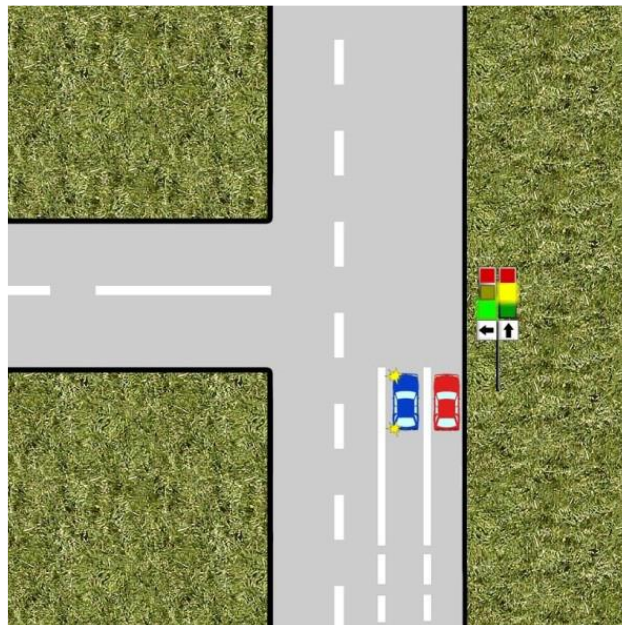
- a) autovehiculul de culoare albastra si cel de culoare neagra;
- b) numai autoturismul de culoare galbena;
- c) autovehiculele de culoare neagra si galbena;

21. **Semaforul de pe trotuar functioneaza numai pe culoarea galben-intermitent; care din cele trei autovehicule poate patrunde in intersectie?**



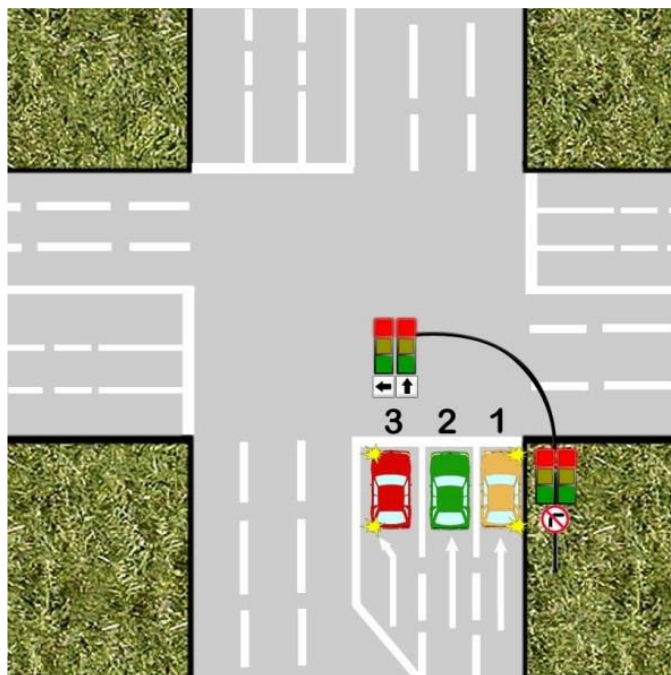
- a) numai tramvaiul;
- b) numai conducatorul autovehiculului de culoare albastra;
- c) niciunul;

22. **Semaforul din dreapta functioneaza numai pe culoarea galben-intermitent. Care din cele doua autovehicule va putea patrunde in intersectie?**



- a) autovehiculul cu numarul 1;
- b) autovehiculul cu numarul 2;
- c) ambele autovehicule;

23. **Care din cele trei autovehicule va putea patrunde in intersectie?**



- a) niciunul;
- b) numai autovehiculul cu numarul 1;
- c) numai autovehiculul cu numarul 3;

24. **Cum procedati in cazul in care, conducand un autoturism, ajungeti la o intersectie in care semaforul este pe culoarea rosie, dar agentul de circulatie va face semn sa treceti?**

- a) opriti in dreptul semaforului;
- b) va continuati deplasarea pe directia dorita;
- c) atrageti atentia politistului ca semaforul este pe culoarea rosie;

25. **Cum va proceda conducatorul unui autovehicul, care circula prin centrul unei localitati, pentru a se incadra in sistemul circulatiei pe „unda verde”?**

- a) va circula in permanenta cu viteza maxima legala admisa in localitate;
- b) va respecta viteza afisata;
- c) va evita oprirea si stationarea pe sectorul de drum respectiv;

26. **Cum este indicat sa procedeze un conducator auto care, aflandu-se la o distanta apreciabila de o intersectie, observa semaforul care functioneaza pe culoarea verde**

- a) sa mareasca viteza pentru a „prinde” culoarea verde;
- b) sa aiba in permanenta controlul asupra vitezei autovehiculului pentru a fi in masura sa opreasca la semafor, in cazul in care s-ar schimba culoarea;
- c) sa se ghideze dupa conducatorul autovehiculului din fata sa.