

OPRIREA, STATIONAREA, PARCAREA

1. Care din urmatoarele obligatii referitoare la efectuarea unei manevre, nu este formulata corect?

- a) convingerea ca manevra este permisa
- b) asigurarea ca nu stanjeneste deplasarea celorlalti participanti la trafic
- c) semnalizarea manevrei

2. Care din urmatoarele manevre nu trebuie semnalizata?

- a) intrarea sau iesirea dintr-un rand de vehicule stationate
- b) mersul cu spatele
- c) depasirea unui tramvai pe o strada cu dublu sens de circulatie

3. Asigurarea la efectuarea unei manevre presupune din parte cond. auto convingerea ca prin manevra respectiva nu pericliteaza siguranta conducatorilor de vehicule:

- a) care il preced
- b) care il urmeaza
- c) cu care se va incrucisa


4. In cazul unui obstacol existent in zona mediana a partii carosabile conducatorii de vehicule il vor ocoli:

- a) prin partea stanga
- b) prin partea dreapta
- c) pe oricare din parti

5. In localitati, un autovehicul poate fi oprit sau stationat pe partea stanga a unui drum public?

- a) nu, in nici o imprejurare
- b) da, numai intr-o zona rezidentiala
- c) da, numai pe drumurile cu sens unic, daca ramane libera cel putin o banda de circulatie

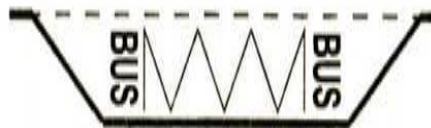
6. Care din urmatoarele marcaje interzic oprirea autovehiculului?



1.



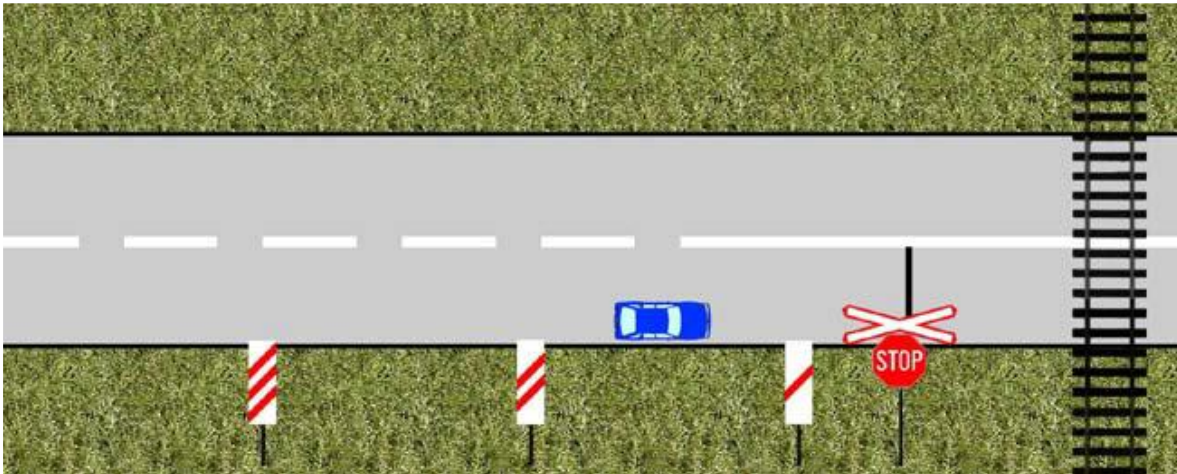
2.



3.

- a) marcajul cu nr. 1 in cazul in care conducatorii celorlalte vehicule care circula in acelasi sens, ar fi determinati din acest motiv sa-l incalce si marcajul cu nr. 3
- b) doar marcajul cu nr. 3
- c) marcajele cu nr. 1 si 2

7. Precizati daca autovehiculul din imagine stationeaza regulamentar:



- a) da
- b) nu
- c) ii este permisa numai oprirea, nu si stationarea

8. Va aflati cu autovehiculul la 40m de varful unei rampe cu inclinatie mare: care din urmatoarele manevre va sunt permise?

- a) oprirea autovehiculului
- b) stationarea autovehiculului
- c) niciuna din manevre

9. Va aflati cu autovehiculul in zona de actiune a unuia din indicatoarele de mai jos; care din ele va interzice oprirea?



1.



2.



3.



4.

- a) indicatoarele 1, 2 si 4
- b) toate indicatoarele
- c) indicatoarele 1, 3 si 4

10. In zona de actiune a caruia din cele patru indicatoare de mai jos, va este interzisa stationarea?



1.



2.



3.



4.

- a) la indicatoarele 1, 2 si 3
- b) la toate indicatoarele
- c) la indicatoarele 1, 3 si 4

11. Precizati in zona de actiune a carui indicator din cele de mai jos este interzisa oprirea voluntara a autovehiculului?



1.



2.



3.



4.

- a) in zona de actiune a tuturor indicatoarelor
- b) la indicatoarele 2, 3 si 4
- c) la indicatoarele 3 si 4

12. In zona de actiune a carui indicator din cele de mai jos este interzisa stationarea autovehiculelor?



1.



2.



3.



4.

- a) la indicatoarele 1, 2 si 3
- b) la indicatoarele 1, 2, 3 si 4
- c) la indicatoarele 2 si 3

13. Oprirea unui autovehicul este interzisa:

- a) la mai puțin de 50m de o intersecție unde circulația se desfășoară pe trei benzi.
- b) sub un pasaj denivelat
- c) în dreptul indicatorului “Copii” dacă astfel i-am împiedica pe ceilalți conducători auto să-l observe.

14. În care din următoarele situații oprirea autovehiculelor este interzisă?

- a) în dreptul indicatorului “Presemnalizare trecere pietoni”, dacă în acest fel ar fi împiedicată observarea sa.
- b) pe drumurile cu un singur sens de circulație
- c) în dreptul căilor de acces care deservește proprietăți alăturate drumului public.

15. Care din următoarele indicatoare, aflate pe drumul public, interzic staționarea autovehiculului?



1.



2.



3.



4.

- a) indicatoarele 1, 3 și 4.
- b) indicatoarele 3 și 4.
- c) toate indicatoarele.

16. În care din următoarele situații este interzisă staționarea autovehiculelor, cu toate că oprirea este permisă?

- a) pe drum îngustat
- b) pe drumul cu o lățime mai mică de 6m.
- c) pe un drum național

17. În care din următoarele cazuri oprirea autovehiculului este permisă?

- a) în dreptul altui vehicul oprit pe partea carosabilă, dacă prin aceasta se stăjeneste circulația a două vehicule venind din sensuri opuse.
- b) pe drumurile semnalizate cu indicatorul “Drum pentru autovehicule”.
- c) în pantă și în rampă

18. Este permisă staționarea vehiculelor pe trotuar?

- a) nu
- b) da, dacă există marcaj în acest sens
- c) da, dacă nu se stăjeneste circulația pietonilor și rămâne liber cel puțin un culoar de minimum 0,5m lățime înspre marginea opusă părții carosabile

19. In care din urmatoarele locuri imobilizarea autovehiculelor pe o durata mai mare de 5 minute este sanctionata?

- a) la mai putin de 25m de indicatorul unei statii de troleibuz
- b) la 25m de coltul unei intersectii unde nu exista marcaje
- c) la 25m de coltul unei intersectii prevazute cu marcaje pentru delimitarea benzilor de circulatie.

20. Imobilizarea autoturismului pe partea carosabila a strazii din fata casei dumneavoastra de vineri si pana in ziua de duminica, ar constitui:

- a) oprire
- b) stationare
- c) parcare


21. Puteti parca autoturismul dvs. pe trotuar?

- a) nu
- b) da, daca exista reglementari in acest sens
- c) da, daca trotuarul este suficient de lat si nu este impiedicata circulatia pietonilor.

22. Care din urmatoarele obligatii referitoare la parcare autoturismului, nu va revine:

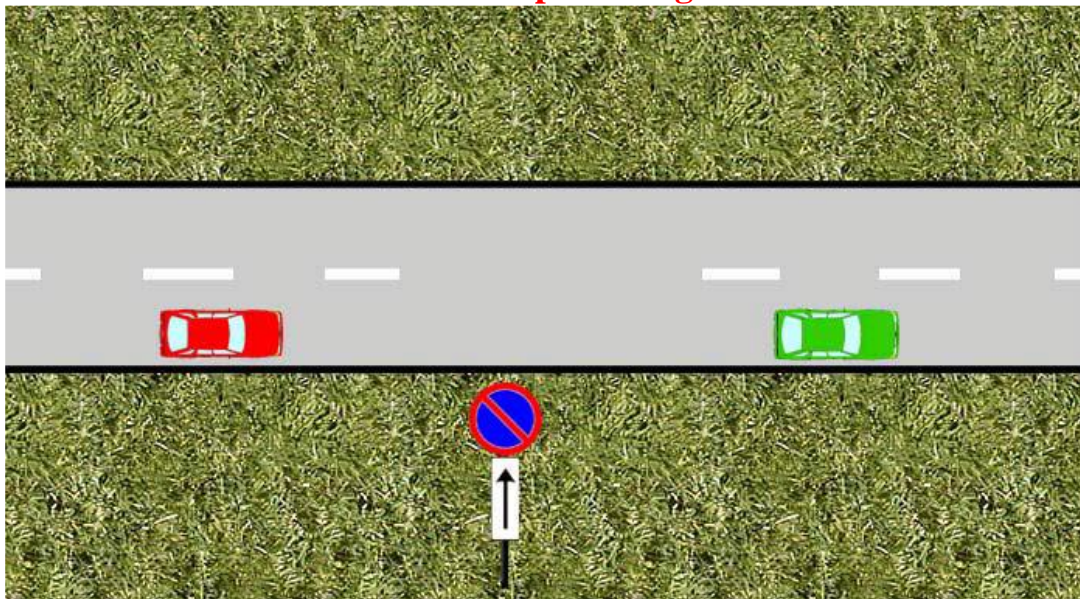
- a) sa opriti motorul si sa introduceti maneta intr-o treapta de viteza sau in treapta de parcare.
- b) sa puneti in functiune dispozitivele de franare, stationare, antifurt si sa incuiati usile.
- c) pe timp de noapte sa-l semnalizati prin aprinderea luminilor de pozitie.

23. Care din autovehiculele de mai jos a oprit in mod regulamentar?



- a) autovehiculul de culoare rosie
- b) autovehiculul de culoare verde
- c) niciunul.

24. Care din cele doua autoturisme a oprit neregulamentar?



- a) autoturismul de culoare rosie
- b) autoturismul de culoare verde
- c) ambele autoturisme au oprit corect.

25. In care din urmatoarele situatii oprirea autovehiculului este permisa?

- a) la mai putin de 50m dupa trecerea la nivel cu calea ferata
- b) la mai putin de 50m inainte de trecerea la nivel cu calea ferata
- c) la mai putin de 25m inainte de trecerea pentru pietoni

26. Oprirea autovehiculelor este interzisa:

- a) pe un drum ingust
- b) pe un drum cu latime mai mica de 6m
- c) pe un drum cu declivitati

27. Cand poate fi aplicata o sanctiune unui conducator de autoturism

- a) cand a imobilizat voluntar autoturismul pentru debarcarea unei persoane, fara sa perturbe circulatia.
- b) daca a oprit autovehiculul pe un pod cu o latime mai mare de 7m, unde vizibilitatea este asigurata pe o distanta mai mare de 20m
- c) cand stationeaza pe un drum national

28. Oprirea autovehiculului este permisa:

- a) in zona de actiune a indicatorului "Prioritate pentru circulatia din sens invers"
- b) pe o banda de circulatie rezervata vehiculelor lente, aflata pe un drum de munte
- c) in zona de actiune a indicatorului "Presemnalizare trecere pietoni".

29. Un vehicul poate fi oprit sau stationat cu toate luminile stinse pe timp de noapte?

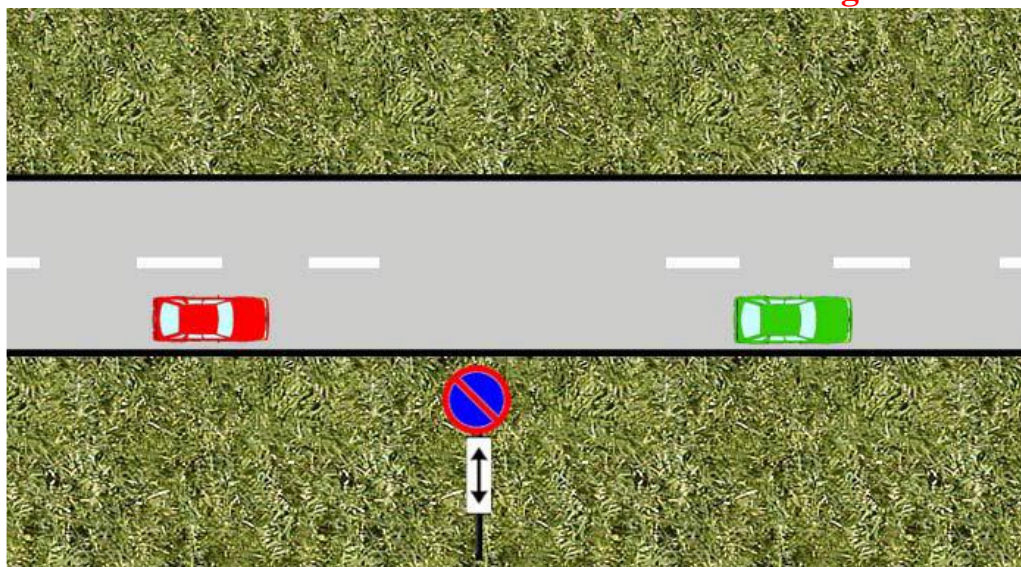
- a) da, numai pe strazi de categoria I(magistrale).
- b) da, pe un drum iluminat, daca vehiculul este vizibil de la cel putin 50m.
- c) da, pe un drum iluminat, astfel incat vehiculul sa fie vizibil de la cel putin 100m.

30. Autoturismul din imaginea de mai jos, a parcat corect?



- a) da
- b) nu, deoarece nu respecta semnificatia indicatorului
- c) nu, deoarece panoul additional nu ii permite acest lucru.

31. Precizati care din cele doua autovehicule stationeaza regulamentar.



- a) autovehiculul 1;
- b) autovehiculul 2;
- c) niciunul;

32. O remorca poate fi stationata noaptea pe partea carosabila a unui drum public?

- a) da, daca drumul este iluminat corespunzator;
- b) da, daca i se semnalizeaza prezenta cu ajutorul triunghiurilor reflectorizante instalate corect;
- c) nu.